

**Задания для участников 6-х классов**

**Инструкция по выполнению работ**

Время на выполнение работы – 45 минут.

Максимальное количество баллов – 94.

**Уважаемый участник!**

При выполнении работы внимательно читайте текст заданий. Содержание ответа вписывайте в отведённые поля, записи ведите чётко и разборчиво.

За каждый правильный ответ Вы можете получить определённое членами жюри количество баллов, но не выше указанной максимальной оценки. Сумма набранных баллов за все решённые вопросы – итог Вашей работы.

Задания считаются выполненными, если Вы вовремя сдали их членам жюри.

*Желаем успеха!*

Шифр ИСТ-53

**Задание 1. Верны ли следующие утверждения («да» – «нет»)? Ответы внесите в таблицу.**

- 1.1. Фараоны в Древнем Египте считались сыновьями луны.
- 1.2. Самым могущественным царем Вавилонского царства был Хаммурапи.
- 1.3. Первыми стали применять железо греки.
- 1.4. Гробница императора Цинь Шихуанди находится на территории современного Египта.
- 1.5. В рамках древнегреческой колонизации Причерноморья были построены города на территории современной Российской Федерации.
- 1.6. Наставником и воспитателем Александра Македонского был философ Диоген.
- 1.7. Зарождение древнегреческого театра связывают с празднествами в честь бога Диониса.
- 1.8. Автором «Илиады» является Гиппократ.
- 1.9. На время Олимпийских игр в Древней Греции были запрещены войны.
- 1.10. Фраза «жребий брошен» принадлежит Юлию Цезарю и относится к его походу на Рим.

8


Ответ:	1.1	1.2	1.3	1.4	1.5	1.6	1.7	1.8	1.9	1.10
	нет <sup>+</sup>	да <sup>+</sup>	нет <sup>+</sup>	нет <sup>+</sup>	нет	да	да <sup>+</sup>	нет <sup>+</sup>	да <sup>+</sup>	да <sup>+</sup>

Критерии оценивания: за каждый верный ответ - 1 балл, всего – 10 баллов.

**Задание 2. Перед Вами фрагменты шести полотен художника Степана Бакаловича, часто вдохновлявшегося сюжетами из древности. Соотнесите фрагмент каждой картины с утверждением об этой картине. Ответы внесите в таблицу.**




1




2



3



4



5



6

А. На картине изображен писец фараона.

Б. На картине изображен поэт Катулл.

В. На картине изображено одно из Семи чудес света.

Г. На картине изображена достопримечательность, которая носит имя одного из римских императоров.

Д. На картине показана приёмная знаменитого римского благотворителя, чьё имя стало нарицательным.

Е. На картине показано исполнение религиозного ритуала.

12

Ответ:

А	Б	В	Г	Д	Е
3	1	2	4	5	6

Критерии оценивания: за каждый верный ответ - 2 балла, всего - 12 баллов.

**Задание 3. Происхождение многих из современных технологий можно проследить в древнем Китае. Прочитайте фрагменты текста. О каких изобретениях древних китайцев идет речь? Заполните пропуски. Ответ внесите в таблицу.**

«3.1 Бумага является одним из наиболее широко используемых и необходимых материалов, была изобретена впервые в древнем Китае в период правления династии Хань. До второго века до нашей эры китайцы пользовались очень дорогими и не всегда качественными средствами для письма, такими как полосы бамбука, свитки из шелка, закаленные глиняные таблички, деревянные таблички и т.д. Первый прототип 3.2 \_\_\_\_\_ как считается, появился также во времена династии Хань, когда китайцы стали использовать магнитный железняк, ориентированный на север-юг. Правда, использовался он не для навигации, а для гадания. Еще в середине 1 тысячелетия до н. э. китайцы использовали для фейерверков удивительное изобретение – 3.3 \_\_\_\_\_. Китайские художники открыли секрет 3.4 \_\_\_\_\_, которым покрывали зонтики, деревянные изделия и даже обувь, делая их водонепроницаемыми. Во многие страны отправлялись караваны, груженные гладкой тончайшей тканью, прославившей Древний Китай – 3.5 \_\_\_\_\_».

8 Ответ:

3.1	Бумага
3.2	Компас
3.3	Порох
3.4	резина
3.5	шелк

Критерии оценивания: за каждый верный ответ - 2 балла, всего – 10 баллов.

**Задание 4. Много крылатых выражений пришло к нам из истории и мифологии народов Древнего мира. Соотнесите выражение и название страны или региона, которые связаны с появлением этого выражения. Ответ внесите в таблицу.**

4.1.Зарыть талант в землю	А. Древнее Двуречье
4.2.Эврика!	Б. Древний Египет
4.3.Смещение языков	В. Древняя Палестина
4.4.Ухо мальчика – на его спине!	Г. Древний Китай
4.5.Правитель должен быть правителем, отец – отцом, сын – сыном.	Д. Древняя Греция

9 Ответ:

4.1	4.2	4.3	4.4	4.5
Б	А	А	Г	В

Критерии оценивания: за каждый верный ответ - 2 балла, всего – 10 баллов.

**Задание 5. Перед Вами текст по истории раннего Средневековья. В нём пропущены некоторые слова и даты. Заполните каждый пропуск, выбрав один из трёх вариантов.**

В (1. 476) году вождь варваров сверг последнего императора Западной Римской империи (2. Рима) Августула. С этой даты началась история Средних веков. На бывшей территории Западной Римской империи стали образовываться варварские королевства, одним из которых было королевство франков. Его основателем был (3. Хлодвиг) из династии (4. Меровингов). В период его правления были записаны старинные судебные обычаи франков, создан свод законов – (5. Салы) Правда. Однако в VII в. королевская власть ослабела, и фактическими правителями государства стали королевские управляющие – майордомы. В 732 г. майордом Карл (6. Великий) одержал победу над арабами в битве (7. при Астийесе)

1. 476, 486, 496
2. Августа, Рема, Ромула
3. Теодорих, Хильдеберт, Хлодвиг
4. Капетингов, Каролингов, Меровингов
5. Вестготская, Салическая, Фризская
6. Великий, Лысый, Мартелл
7. на Каталаунских полях, при Гастингсе, при Пуатье

6 Ответ:

5.1	486	
5.2	Рема	
5.3	Хлодвиг	2
5.4	Меровингов	2
5.5	Салическая	2
5.6	Великий	0
5.7	При Гастингсе	

Критерии оценивания: за каждый верный ответ - 2 балла, всего - 14 баллов.

**Задание 6.** Греция – колыбель не только цивилизации, но и мифологии. Всё здесь наполнено мифами и легендами, и один из ее основных городов – не исключение. Все верховные боги захотели стать его покровителями, но после общего совета большинство из них отказались от своего намерения. И только два божества продолжали спорить. Решили, город будет назван именем того, кто преподнесет ему лучший подарок.

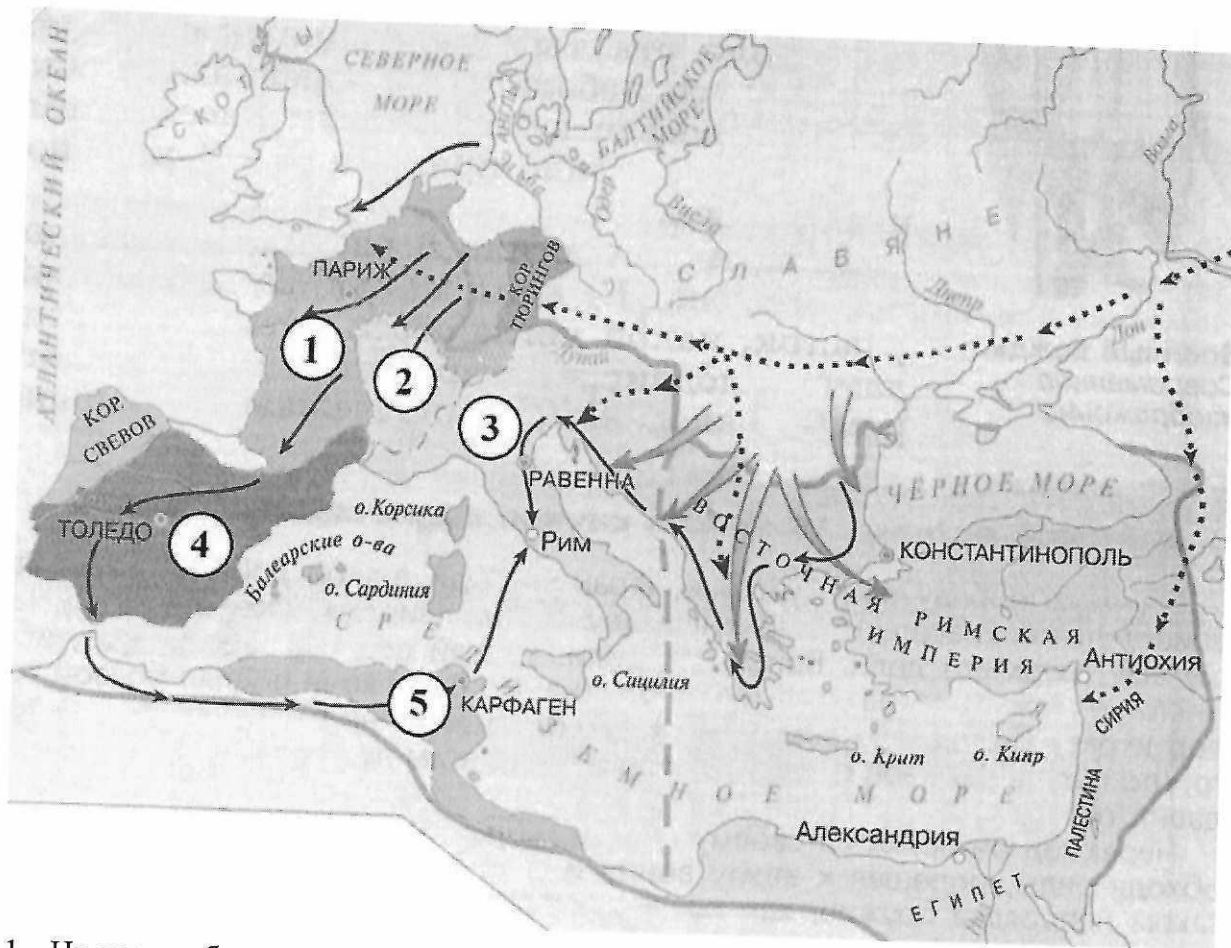
1. О каком городе идет речь?
2. Какие боги участвовали в споре?
3. Кто выиграл, дал свое имя городу и почему?

Ответ:

6.1	
6.2	Аполлона и
6.3	

Критерии оценивания: за каждый верный ответ - 2 балла, всего - 6 баллов.

**Задание 7.** Внимательно рассмотрите карту и выберите верные утверждения из предложенных.



1. На карте обозначено государство, за которым в исторической науке закрепилось название Византия.
2. На карте обозначен город, в котором было заключено соглашение о разделе империи Карла Великого.
3. На карте обозначен город, который был разрушен в результате противоборства с Римской республикой.
4. На карте обозначен остров, где согласно мифу располагался лабиринт, в котором жил Минотавр.
5. Сплошной линией на карте обозначены границы империи Александра Македонского.

4 Ответ:

7.1	7.2	7.3	7.4	7.5
нет	нет	да	нет	да

Критерии оценивания: за каждый верный ответ - 2 балла, всего - 10 баллов.

**Задание 8. Соотнесите имена правителей с историческим фактом.**


А) Александр Македонский	1) Организация библиотеки глиняных книг
Б) Ашшурбанапал	2) Создание древнейших законов
В) Константин	3) Строительство самой длинной стены
Г) Октавиан Август	4) Создание новой религии - буддизма
Д) Соломон	5) Строительство храма бога Яхве в Иерусалиме
Е) Хаммурапи	6) Самые крупные завоевания земель соседей Египта
Ж) Царевич Гаутама	7) Военный поход в Индию
З) Цинь Шихуан	8) Разрешение христианам открыто молиться
И) Юлий Цезарь	9) Установление империи
К) Тутмос	10) Захват единоличной власти в Риме

8  
Ответ:

А	Б	В	Г	Д	Е	Ж	З	И	К
7	1	2	5	9	2	4	3	10	6

Критерии оценивания: за каждый верный ответ - 1 балл, всего - 10 баллов.

Задание 9. Неотъемлемая часть ремесла историка – расшифровка рукописных памятников прошлых веков. Перед Вами фрагменты русского летописного свода с мужскими и женскими именами. Напишите эти имена в современных русскоязычных вариантах их написания.



12  
Ответ:

- 1. Никита
- 2. Елена
- 3. Филипп
- 4. Константин
- 5. Андрей
- 6. Анна

Критерии оценивания: за каждый верный ответ - 2 балла, всего - 12 баллов.

Спасибо за участие!